

一、地理部分

1. () 一地自然條件的優劣，將最直接影響到哪一級產業的發展？ (A)第一級產業 (B)第二級產業 (C)第三級產業。

《答案》A

2. () 假如有一地區的都市化程度是 30%，都市人口數是 600 萬人，則此區的人口總數是多少？ (A)1,800 萬人 (B)2,000 萬人 (C)2,400 萬人 (D)3,000 萬人。

《答案》B

3. () 觀光業的發展除了具有地方獨特性的觀光資源外，遊客在旅遊期間所需的交通、住宿、餐飲、購物等服務，也必須與景點之間緊密連結。在臺灣，若以遊覽車為旅遊的交通工具，則下列哪一個行程路途最遙遠，較不適合安排一日遊的行程？ (A)新竹－臺中 (B)嘉義－南投 (C)臺南－彰化 (D)桃園－臺東。

《答案》D

4. () 臺灣的大都會區目前主要分布在哪些區域？ (甲)北部區域 (乙)中部區域 (丙)東部區域 (丁)南部區域 (戊)金馬地區 (A)甲乙丙 (B)甲乙丁 (C)乙丙丁 (D)乙丁戊。

《答案》B

5. () 下列何者為人口增加率的算法？ (A)移入率－移出率 (B)出生率－死亡率 (C)自然增加率＋社會增加率 (D)移入率＋出生率。

《答案》C

6. () 臺灣工業發展歷經幾個階段，目前臺灣的貿易輸出品中，主要是以何種外銷產品為大宗？ (A)農業產品 (B)工業原料 (C)輕工業產品 (D)電子資訊產品。

《答案》D

7. () 討論人口遷移時，「吸引他地人口移入的有利條件」統稱為何？ (A)推力 (B)拉力 (C)移入率 (D)移出率。

《答案》B

8. () 小愛是哇哈哈國道客運的隨車服務人員，車子從高雄出發要到臺北，她在旅客紀錄表上寫著：「吳先生夫婦在新竹下車，李太太一家到臺中，馬爺爺祖孫在板橋下車，張奶奶母女在彰化下車。」則小愛應先服務哪一組旅客準備下車？ (A)吳先生夫婦 (B)李太太一家 (C)馬爺爺祖孫 (D)張奶奶母女。

《答案》D

9. () (甲)汽車組裝業者 (乙)蔬菜種植者 (丙)麵包烘焙業者 (丁)便利商店店員 (戊)花卉栽培者。上述產業從業人員中，哪些屬於第一級產業？ (A)甲丙 (B)乙戊 (C)丙丁 (D)丁戊。

《答案》B

詳解：第一級產業是指直接取用自然資源，或將自然資源加以培育利用的產業，故題幹的從業人員中，(乙)、(戊)兩者屬之。

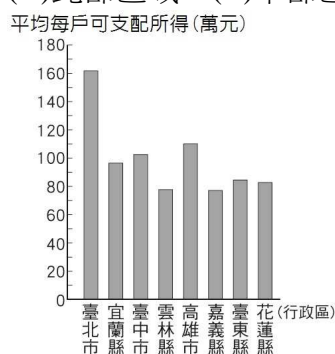
10. () 下列哪一些產業屬於將第一級產業的產品再加工製造的產業？ (甲)農業 (乙)牧業 (丙)工業 (丁)紡織業 (戊)運輸業 (A)甲乙 (B)乙丙 (C)丙丁 (D)丁戊。

《答案》C

11. () 為完成地理作業「民國 107 年臺北市北投區人口金字塔圖」，小安在圖書館必須找到北投區的哪些資料才能完成作業？ (A)各年齡層人口比例及性別比例 (B)教育程度比例及性別比例 (C)自然增加率及社會增加率 (D)職業別及性別比例。

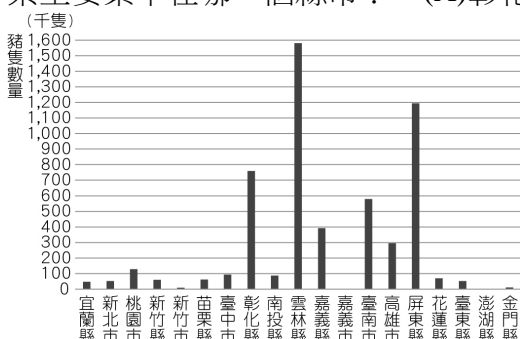
《答案》A

12. () 附圖為某年臺灣部分縣市家庭平均每戶可支配所得統計圖。請問：平均可支配所得最高的縣市出現於哪一個地區？ (A)北部區域 (B)中部區域 (C)南部區域 (D)東部區域。



《答案》A

13. () 附圖為西元 2020 年(5 月底前)臺灣豬隻相關調查統計表，圖中縱軸為豬隻數量，請問依據圖中資訊判斷，臺灣養豬業主要集中在哪一個縣市？ (A)彰化縣 (B)雲林縣 (C)屏東縣 (D)嘉義縣。



《答案》B

詳解：臺灣養豬業主要集中於雲林縣、彰化縣與屏東縣。

14. () 現代農業的生產模式，由以前的自給自足，轉變為大量生產、供應市場需求為主。這種現象稱為什麼？ (A)農產品在地化 (B)農產品自動化 (C)農產品生活化 (D)農產品商品化。

《答案》D

15. () 下列臺灣農業經營的特性中，何者是臺灣加入 WTO 後，對農業發展產生最大衝擊的主因？ (A)農村勞力外流 (B)生產成本較高 (C)稻米生產過剩 (D)農產品價格偏低。

《答案》B

詳解：因耕地狹小，導致生產成本高，無法與外國產品競爭。

16. () 附表為四個國家的出生率與死亡率資料，哪一個國家的自然增加率較高？ (A)甲 (B)乙 (C)丙 (D)丁。

國家	甲	乙	丙	丁
出生率(‰)	32	51	18	10
死亡率(‰)	10	20	9	14

《答案》B

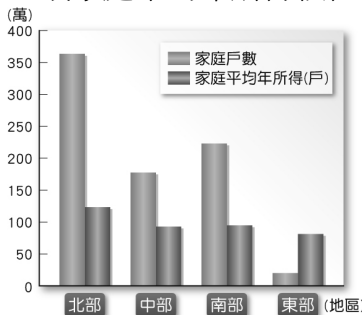
17. () 人口移動可分為國內遷移與國際遷移，主要是依據下列哪項因素界定？ (A)遷移的目的 (B)遷移的時間 (C)遷移的頻率 (D)遷移的空間。

《答案》D

18. () (甲)資訊工業 (乙)紡織業 (丙)石化業。若依據臺灣的工業發展階段，上述產業發展先後依序為何？ (A)甲乙丙 (B)乙丙甲 (C)丙甲乙 (D)丙乙甲。

《答案》B

19. () 附圖為臺灣各區域家庭平均年所得比較圖，其中東部區域相較於其他地區來的低，請問：下列何者不是影響東部區域家庭平均年所得較低的主要原因？ (A)開發較晚 (B)地形平坦 (C)形勢封閉 (D)交通不便。



《答案》B

20. () 臺灣的運輸網絡密度大、運輸量高，其中下列何者不屬於溝通南、北向交通的路線？ (A)中山高速公路 (B)花東鐵路幹線 (C)臺灣高速鐵路 (D)阿里山森林鐵路。

《答案》D

二、歷史部分

1. () 民國 38 年，臺灣省政府為了防止共產黨滲透及共產思想傳播，於是宣布下列哪項政策，限制人民的種種自由？ (A)《憲法》 (B)《刑法》 (C)《動員戡亂時期臨時條款》 (D)《戒嚴令》。

《答案》D

2. () 由於十大建設興建的緣故，許多相關工業設備與交通建設陸續完成，奠定臺灣在民國六十~七十年代哪種產業發展的基礎？ (A)民生加工業 (B)輕工業 (C)重化工業 (D)觀光產業。

《答案》C

3. () 關於日治時期重大的「交通通訊建設」，下列敘述何者正確？ (A)日治時期，高速鐵路已經完工 (B)日治時期，闢建蘇澳至花蓮鐵路 (C)在臺灣建立現代化郵政系統 (D)闢建國際機場。

《答案》C

4. () 在臺灣文學的發展中，原住民亦占有一席之地，如泰雅族的瓦歷斯·諾幹(Walis Nokan)、達悟族的夏曼·藍波安(Syaman Rapongan)，這些原住民作家也都另有漢名。請問：身為原住民，他們為何擁有漢名？ (A)避免被誤認成外來族群 (B)為了與漢人通婚 (C)不願被日本同化 (D)政府推行「改漢姓」政策。

《答案》D

詳解：政府要求原住民說國語、改用漢人姓名。所以才會有文章中雖然是原住民卻擁有漢名的狀況出現。

5. () 清光緒年間，中國割讓臺灣，部分知識分子反對割讓，主張建立臺灣民主國，率眾抵抗外國勢力的入侵。此事件起因於下列哪場戰爭的失敗？ (A)余清芳事件 (B)清法戰爭 (C)甲午戰爭 (D)牡丹社事件。

《答案》C

6. () 日治時期，總督府建立不少交通基礎設施，當時的交通建設不包含下列何者？ (A)西部縱貫鐵路 (B)整建基隆港 (C)整建高雄港 (D)鐵路電氣化。

《答案》D

7. () 根據資料統計，日治時期臺灣警察分布密度遠遠高於日本母國一倍以上，不過身為一名警察，平均仍需分配到管理近 550 名臺灣民眾。日本警察即使再怎樣神通廣大，也無法密實的管理所有的群眾。請問：日治時期的警察之所以能有效管理臺灣，下列哪一個不是主要原因？ (A)許多日本警察素質不高 (B)日本警察擁有強而有力的執法權 (C)地方上保甲制度的協助 (D)地方社會嚴密受到政府控制。

《答案》A

詳解：日本在臺統治期間，厲行法治，警察本身可以行使極大的執法權，加上搭配保甲制與壯丁團，對於地方上能夠有效的掌握。

8. () 中華民國政府遷臺後的原住民政策，對原住民的生活造成許多影響。下列何者最有可能是生活於民國七十年代前，臺灣原住民的心聲？ (A) 綺綺：我們族裡的祭典完全沒有傳承危機 (B) 拉拉：我們具有原住民族身分，權益獲一定程度保障 (C) 丁丁：我們的土地並沒有被政府、企業侵占 (D) 鴨鴨：我與其他族人被迫使用漢名。

《答案》D

詳解：政府要求原住民說國語、改漢人姓名，對傳統文化與家族關係帶來衝擊。故這題答案應該選(D)。

9. () 關於日治時期臺灣的「公學校」，下列敘述何者錯誤？ (A) 主要是提供臺灣子弟就讀 (B) 是一種貫徹殖民政策的工具 (C) 其教材、師資以及設備與小學校相同 (D) 課程以教授日語為主。

《答案》C

10. () 新竹科學工業園區的設立，代表臺灣的產業發展逐漸轉型到哪種類型？ (A) 輕工業 (B) 重工業 (C) 高科技產業 (D) 國防工業。

《答案》C

11. () 「臺灣文化協會」在西元 1923 年舉辦的演講只有 36 場，第二年增加為 132 場，啟迪民智的影響力與日俱增。請問：下列何人與這個協會舉辦的活動有很大的關係？ (A) 丘逢甲 (B) 余清芳 (C) 唐景崧 (D) 蔣渭水。

《答案》D

詳解：蔣渭水和一些有識之士組成「臺灣文化協會」，舉辦演講會、讀報社等活動，以提升臺灣民智。

12. () 日治時期臺灣北部的第一大港是下列何者？ (A) 基隆港 (B) 高雄港 (C) 臺中港 (D) 花蓮港。

《答案》A

13. () 日月潭水力發電工程，主要是提供臺灣哪個區域的電力需求？ (A) 東北部 (B) 西半部 (C) 東南部 (D) 東部。

《答案》B

14. () 政府遷臺初期，國際局勢動盪，臺灣外交處境艱困。後因韓戰緣故，我國開始獲得某國經濟援助，該國文化也大量傳入，影響臺灣文化發展。請問：上述的某國應是指哪一國？ (A) 日本 (B) 美國 (C) 英國 (D) 蘇聯。

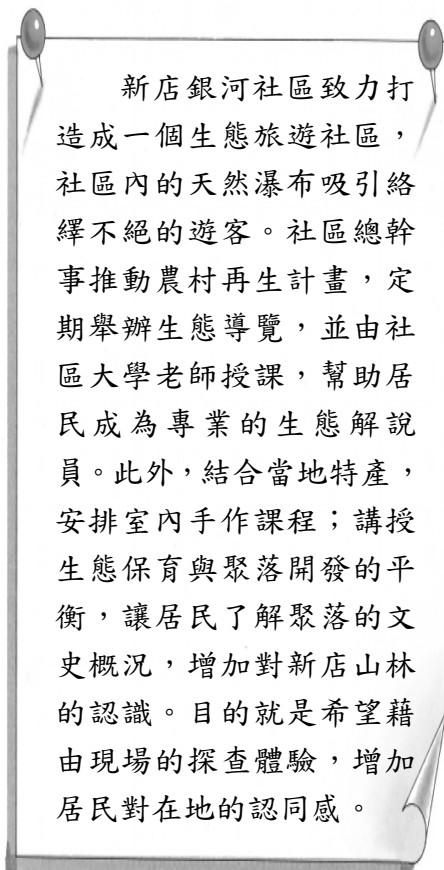
《答案》B

詳解：西元 1950 年韓戰爆發後，美國派第七艦隊協防臺灣海峽，並提供援助給我國，穩定臺灣的政局與臺海局勢。隨著美援，美國文化亦大量傳入臺灣，影響人民的生活方式與藝文發展。

15. () 日治時期，日本政府在臺灣成立什麼組織，發行貨幣，以利經濟的發展？ (A) 郵便局 (B) 臺灣銀行 (C) 壯丁團 (D) 新式糖廠。

《答案》B

16. () 附圖是對新北市新店區銀河社區的敘述，關於這篇短文的内容，下列何者正確？ (A) 農村再生計畫破壞了既有的傳統產業結構，使地方經濟發展更趨困難 (B) 形塑地方特色可以吸引觀光資源，並提振當地經濟產業發展 (C) 推動農村再生計畫，目的是為了避免農村過度都市化 (D) 因應農村人口老化，打造適合養老的環境非常重要。



《答案》B

17. () 魏德聖導演的電影《賽德克·巴萊》，是以日治時代的原住民抗日事件為背景。下列何人應是這部電影當中的主要角色？ (A) 唐景崧 (B) 丘逢甲 (C) 劉永福 (D) 莫那魯道。

《答案》D

18. () 傳統臺灣人若身體不適，常會求神問卜或至中藥鋪抓藥，直到何時才逐漸建立現代的醫療體系與觀念？ (A) 荷蘭在臺時期 (B) 清帝國時期 (C) 日治時期 (D) 中華民國時期。

《答案》C

19. () 臺灣何時引入星期制與標準時間，並促使臺灣人養成守時的觀念？ (A)鄭氏在臺時期 (B)清帝國時期 (C)日治時期 (D)中華民國時期。

《答案》C

20. () 虎虎為了研究二二八事件，決定訪問曾經歷過那個時期的耆老，在徵求同意並預約好時間後，他便前往採訪。在採訪過程中，虎虎有些恍神，導致有些地方記錄有誤。請問：下列何者最有可能是他記錄錯誤的地方？ (A)陳奶奶：我們原本非常期待新政府，但他們卻沒什麼作為，還亂用特權，甚至有不少官員貪汙 (B)林爺爺：過來的人對我們的日式生活習慣不太諒解，但我們也沒辦法一時之間突然改變啊 (C)曾婆婆：我們家的人在經歷二二八事件後都覺得應該要更積極投入政治，甚至當時社會普遍都是如此想法 (D)楊公公：我們這邊有人積極出面協調，甚至跟別人一起組成委員會，但後來卻被政府逮捕、槍決。

《答案》C

詳解：當時因為二二八事件，許多人對於政治皆感到冷漠、灰心，甚至會告誡其後代不要干涉政治，以免發生意外，故(C)選項的描述並不符合實況。

三、公民部分

1. () □□是人類為求生存，適應或改變環境所創造的一切生活方式的總稱。與其他動物相比，□□亦是人類社會獨有的現象。□□應該為下列哪一個選項？ (A)規範 (B)才能 (C)文化 (D)信仰。

《答案》C

2. () 儀貞挺身而出為身障及聽障人士爭取和一般民眾同等的權利，這樣的行為是在實踐下列何種公民德性？ (A)理性思考 (B)遵守法律 (C)充實知能 (D)捍衛正義？

《答案》D

3. () 個人的行為會受到社會規範的約束，以合乎大眾的期望和價值觀。這些約束中具有超自然力量色彩的是下列何者？ (A)宗教信仰 (B)倫理道德 (C)風俗習慣 (D)法律。

《答案》A

4. () 地理環境的差異使得每個社會的主食不盡相同，例如：中國是南稻北麥、阿根廷是玉米、墨西哥是豆類等。依據上述，可以看出文化的何種特性？ (A)普遍性 (B)累積性 (C)差異性 (D)制約性。

《答案》C

5. () 房屋買賣糾紛層出不窮，「中華民國消費者文教基金會」指出政府的實價登錄制度 1.0 版有諸多漏洞：資訊不夠透明、無法遏止「虛價登錄」實情、消費資訊完全不對等。該基金會為伸張居住正義，除了呼籲主管機關應堅持正確政策外，也搜集消費者受害經驗，以相關案例繼續推動修法。從上述基金會的行動，可看出它的積極作為展現哪一項志願結社的特徵？ (A)志願性 (B)組織性 (C)民間性 (D)自主性。

《答案》D

詳解：中華民國消費者文教基金會主動探究與公共事務有關的議題，並督促政府規畫相關法令政策，因此具有自主性的特徵。

6. () 附圖是某篇文章的部分內容，文中所提到的忌諱屬於下列何種社會規範？是否具有強制力？

在臺灣，許多人在吃魚時，會在食用完第一面後直接用筷子將魚翻面好食用另一面，但是，出海打魚的人則有吃魚不能翻面的忌諱，翻面就意味著翻船，有的人甚至把魚看成是船的化身，連魚都不吃……。

- (A)法律：具有強制力 (B)風俗習慣：不具強制力 (C)宗教信仰：不具強制力 (D)倫理道德：具有強制力。

《答案》B

詳解：屬於約定俗成的生活經驗，是不具強制力的風俗習慣。

7. () 某志願團體鼓勵民眾有錢出錢、有力出力，並邀請大家加入，一起幫助貧苦孩童。其對公共生活有何影響？ (A)擴大個人影響力 (B)監督政府的施政 (C)增加個人的收入 (D)培養民主的精神。

《答案》A

8. () 政府對低收入戶、中低收入戶提供生活補助金，是下列哪項社會福利政策的落實？ (A)福利服務 (B)社會保險 (C)社會救助 (D)健康與醫療照護。

《答案》C

9. () 社會成員在長久的生活當中所形成的一種生活方式，久而久之逐漸形成約定俗成的慣例，為大家普遍遵守。例如：我國民眾在清明節時會前往掃墓祭祖，表示慎終追遠之意。上述是指下列何種社會規範？ (A)風俗習慣 (B)倫理道德 (C)宗教信仰 (D)法律。

《答案》A

10. () 我國政府為了響應環保並避免海洋生物誤食人類廢棄物，於西元 2019 年 7 月 1 日開始，政府部門、學校、購物中心和連鎖速食店等業者，「內用」不得提供一次性塑膠吸管，違者將開罰。上述政府做法應屬於下列哪一種社會

規範？ (A)法律 (B)風俗習慣 (C)倫理道德 (D)宗教信仰。

《答案》A

11. () 消費者文教基金會是一群為了保障消費者權益，提升生活品質的學者專家與社會人士所組成的團體。他們的結合主要是基於什麼？ (A)共同的宗教信仰 (B)共同的理念 (C)共同的國籍 (D)共同的職業。

《答案》B

12. () 關於強勢文化的敘述，下列何者正確？ (A)容易受到弱勢文化的支配 (B)當不同文化接觸時產生 (C)擁有的資源比弱勢文化少 (D)容易受到管控支配。

《答案》B

13. () 和銘瀏覽網站時看到一則貼文，如下所示：

百貨公司舉辦異國美食展，展出的美食有：臺灣蚵仔煎、韓國海鮮煎餅、日本鮭魚壽司、德國豬腳、義大利肉醬麵、美國漢堡，南洋肉骨茶麵等，歡迎民眾前往參觀選購。

貼文內容凸顯下列何種文化特性？ (A)普遍性 (B)差異性 (C)累積性 (D)制約性。

《答案》B

詳解：各地因自然環境、生活經驗和生命歷程的不同，形成不同的飲食文化。

14. () 開學第一堂課，老師以「狼孩」的事例作為開場白：在印度東北的一處狼窩裡，當地居民發現了兩個全身赤裸、用四肢爬行且不會說話的女孩。後來他們被送到當地一所孤兒院教養，其中一個女孩年約七、八歲，智力卻只等同於人類六個月的嬰兒，喜歡單獨活動，白天躲藏起來，夜間潛行。經過專業人員有系統、有組織的教養後，漸漸向人類的生活習性邁進。文中女孩因缺乏下列何種過程，使智力及行為表現如狼一般？ (A)專業化 (B)社會化 (C)社區化 (D)組織化。

《答案》B

15. () 老師上課時提到以下重點——



文中所指的★★應為下列何者？ (A)社會化 (B)文化位階 (C)社會規範 (D)志願結社。

《答案》C

16. () 結社自由是民主國家人民的基本權利之一，但對於結社自由的範圍並非毫無限制，下列何種行為，政府即會加以限制其結社自由？ (A)侵犯他人權利 (B)促進團體權益 (C)保障成員權益 (D)參加選舉活動。

《答案》A

17. () 政府推動社會福利保障民眾的基本生活，以維護人性尊嚴，最主要的目標為下列何者？ (A)提升個人的社會地位 (B)打破社會階級的限制 (C)實現公平正義的內涵 (D)落實政府的專業分工。

《答案》C

詳解：公平正義是社會福利的核心價值。其他選項並非社會福利的目標。

18. () 在日本，每年3月3日是俗稱的女兒節，家家戶戶會在家中擺設古裝人偶以祈求女兒未來能有個好歸宿。上述內容最能展現何種社會規範？ (A)法律 (B)風俗習慣 (C)宗教信仰 (D)倫理道德。

《答案》B

19. () 社會規範是社會成員的行為準則，下列有關社會規範的敘述，何者正確？ (A)不同社會的規範沒有任何差異 (B)社會規範皆以公權力作為後盾 (C)社會規範均會隨時間有所改變 (D)先進國家的社會規範比落後國家的社會規範較一成不變。

《答案》C

20. () 下列關於「宗教信仰」的敘述，何者正確？ (A)不會受到其他文化影響而改變 (B)不會透過世代相傳而累積 (C)會隨著時代變遷而調整 (D)以強制力約束信眾。

《答案》C